

# Canguro Matemático



**Prueba Junior**  
Noveno año

Nombre: \_\_\_\_\_

**Kangourou Sans Frontières**

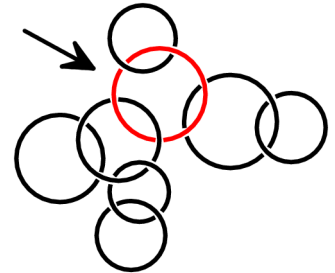
**Costa Rica 2018**

3 puntos

1. En mi familia cada niño tiene al menos dos hermanos y una hermana y lo mismo ocurre con cada niña. ¿Cuál es el menor número posible de niños, entre varones y mujeres, en mi familia?

- (A) 3                      (B) 4                      (C) 5                      (D) 6                      (E) 7

2. Algunos de los anillos de la figura forman una cadena que incluye al anillo indicado por la flecha. ¿Cuántos anillos tiene la cadena de mayor longitud posible?

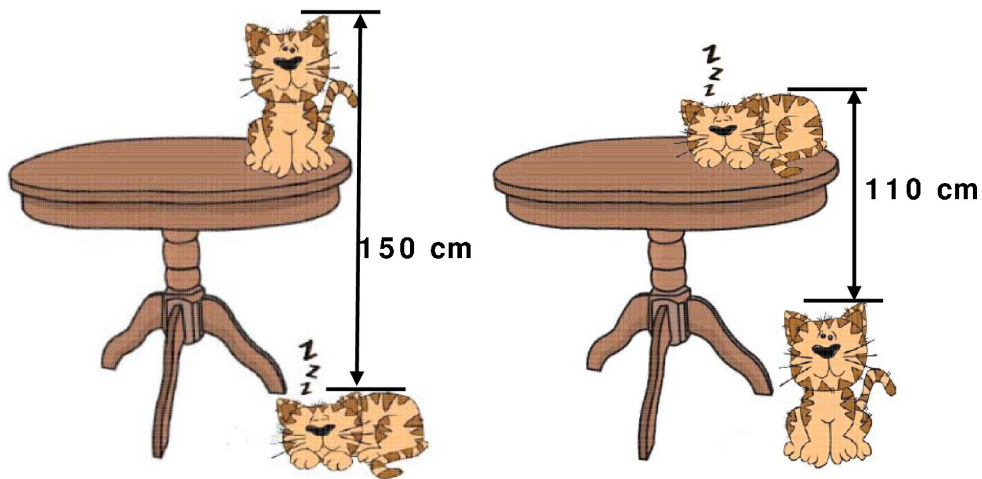


- (A) 3                      (B) 4                      (C) 5                      (D) 6                      (E) 7

3. Las longitudes de dos de los lados del triángulo son 5 y 2, y la longitud del tercer lado es un número entero impar. Hallar la longitud del tercer lado.

- (A) 3                      (B) 4                      (C) 5                      (D) 6                      (E) 7

4. La distancia desde el extremo superior del gato que duerme en el piso hasta el extremo superior del gato sentado en la mesa es 150 cm. La distancia desde el extremo superior del gato sentado en el piso hasta el extremo superior del gato que duerme en la mesa es 110 cm. ¿Cuál es la altura de la mesa?

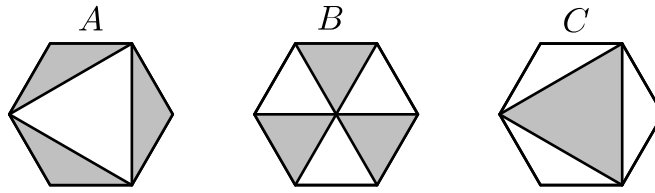


- (A) 110 cm              (B) 120 cm              (C) 130 cm              (D) 140 cm              (E) 150 cm

5. La suma de 5 enteros consecutivos es  $10^{2018}$ . ¿Cuál es el número del medio?

- (A)  $10^{2013}$               (B)  $5^{2017}$               (C)  $10^{2017}$               (D)  $2^{2018}$               (E)  $2 \cdot 10^{2017}$

6. Dados tres hexágonos regulares congruentes, llamamos  $A$ ,  $B$ ,  $C$  al área total de las zonas sombreadas en cada una de las figuras. ¿Cuál de los siguientes enunciados es verdadero?



- (A)  $X = Y = Z$       (B)  $Y = Z \neq X$       (C)  $Z = X \neq Y$       (D)  $X = Y \neq Z$   
 (E) Cada una de las tres áreas  $X, Y, Z$  tiene un valor diferente.

7. María recolectó 42 manzanas, 60 albaricoques y 90 cerezas. Ella quiere repartirlos en pilas idénticas utilizando toda la fruta y luego darle una pila a cada uno de sus amigos. ¿Cuál es la mayor cantidad de pilas que puede hacer?

- (A) 3      (B) 6      (C) 10      (D) 14      (E) 42

8. Algunos dígitos de la siguiente suma, que es correcta, han sido reemplazados por las letras  $P$ ,  $Q$ ,  $R$  y  $S$ , como muestra la figura. ¿Cuánto vale  $P + Q + R + S$ ?

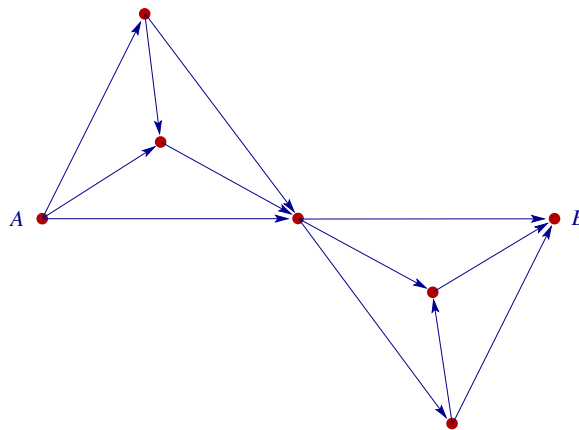
<b>P 4 5</b>
<b>+ Q R S</b>
<b>6 5 4</b>

- (A) 14      (B) 15      (C) 16      (D) 17      (E) 24

9. ¿Cuál es la suma del 25% de 2018 y del 2018% de 25?

- (A) 1009      (B) 2016      (C) 2018      (D) 3027      (E) 5045

10. En la figura, hay que ir de  $A$  a  $B$  siguiendo las flechas. ¿Cuántas rutas distintas son posibles?



- (A) 20      (B) 16      (C) 12      (D) 9      (E) 6

4 puntos


11. Dos edificios están ubicados sobre una misma calle a 250 metros de distancia entre ellos. Hay 100 estudiantes que viven en el primer edificio, y hay 150 estudiantes que viven en el segundo edificio. ¿Dónde se debe construir una parada de autobús de manera que la distancia total que tienen que caminar todos los residentes de ambos edificios desde esa parada hasta sus correspondientes edificios sea la menor posible?

- (A) en frente del primer edificio                      (B) a 100 metros del primer edificio  
 (C) a 100 metros del segundo edificio              (D) en frente del segundo edificio  
 (E) en cualquier posición entre los dos edificios

12. Hay 105 números escritos en una fila: 1, 2, 2, 3, 3, 3, 4, 4, 4, 4, 5, 5, 5, 5, ... (Cada número  $n$  está escrito exactamente  $n$  veces). ¿Cuántos de estos números son divisibles entre 3?

- (A) 4                      (B) 12                      (C) 21                      (D) 30                      (E) 45

13. Ocho semicircunferencias congruentes están dibujadas dentro de un cuadrado de lado 4. ¿Cuál es el área de la parte no sombreada del cuadrado?



- (A)  $2\pi$                       (B) 8                      (C)  $6 + \pi$                       (D)  $3\pi - 2$                       (E)  $3\pi$

14. En un cierto día 40 trenes viajaron cada uno entre dos de los pueblos  $M$ ,  $N$ ,  $O$ ,  $P$  y  $Q$ . 10 salieron de o llegaron a  $M$ . 10 salieron de o llegaron a  $N$ . 10 salieron de o llegaron a  $O$ . 10 salieron de o llegaron a  $P$ . ¿Cuántos trenes salieron de o llegaron a  $Q$ ?

- (A) 0                      (B) 10                      (C) 20                      (D) 30                      (E) 40

15. En la Universidad de Humanidades se puede estudiar idiomas, historia y filosofía. 35% de los estudiantes que estudian idiomas, estudian inglés. 13% de los estudiantes de la universidad estudian un idioma distinto del inglés. Ningún estudiante estudia más de un idioma. ¿Qué porcentaje de los alumnos de la universidad estudia idiomas?

- (A) 13%                      (B) 20%                      (C) 22%                      (D) 48%                      (E) 65%

16. Pedro quería comprarse un libro, pero no tenía nada de dinero. Lo compró con la ayuda de su padre y sus dos hermanos. Su padre le dio la mitad de lo que le dieron sus hermanos. Su hermano mayor le dio un tercio de lo que le dieron los demás. Su hermano menor le dio ₡10 000. ¿Cuál era el precio del libro?

- (A) ₡24 000                      (B) ₡26 000                      (C) ₡28 000                      (D) ₡30 000                      (E) ₡32 000

17. ¿Cuántos números de 3 dígitos hay con la propiedad de que los números de 2 dígitos que se obtienen al suprimir el dígito del medio es igual a un noveno del número de 3 dígitos original?

- (A) 1                      (B) 2                      (C) 3                      (D) 4                      (E) 5

18. Violeta practica el salto largo. En promedio hoy ha saltado hasta ahora, 3.80 m. En su siguiente salto, logró alcanzar 3.99 m y el promedio de sus saltos subió a 3.81 m. ¿Cuán largo deberá ser su siguiente salto para que su promedio aumente a 3.82 m?

- (A) 3.97 m                      (B) 4.00 m                      (C) 4.01 m                      (D) 4.03 m                      (E) 4.04 m

19. ¿Cuántos dígitos tiene el número que es el resultado del siguiente cálculo:  $\frac{1}{9} \times 10^{2018} \times (10^{2018} - 1)$ ?

- (A) 2017                      (B) 2018                      (C) 4035                      (D) 4036                      (E) 4037

20. En un polígono regular de 2018 lados con sus vértices numerados de 1 a 2018 se han trazado dos diagonales. Una diagonal conecta los vértices con los números 18 y 1018, la otra conecta los vértices con los números 1018 y 2000. ¿Cuántos vértices tienen los tres polígonos resultantes?

- (A) 38, 983, 1001    (B) 37, 983, 1001    (C) 38, 982, 1001    (D) 37, 982, 1000    (E) 37, 983, 1002

5 puntos

21. En la pizarra se han escrito varios números enteros, entre los que se incluye el número 2018. La suma de todos estos enteros es 2018. El producto de estos enteros también es 2018. ¿Cuál de los siguientes números puede ser la cantidad de enteros escritos en la pizarra?

- (A) 2016                      (B) 2017                      (C) 2018                      (D) 2019                      (E) 2020


22. Se han dado cuatro números positivos. Se eligen tres de ellos, se calcula su media aritmética y luego se suma el cuarto número. Esto se puede hacer de cuatro maneras diferentes. Los resultados son 17, 21, 23 y 29 respectivamente. ¿Cuál es el mayor de los cuatro números dados?

- (A) 12                      (B) 15                      (C) 21                      (D) 24                      (E) 29

23. Los puntos  $A_0, A_1, A_2, \dots$  están sobre una recta de modo tal que  $A_0A_1 = 1$  y el punto  $A_n$  es el punto medio del segmento  $A_{n+1}A_{n+2}$  para todo entero no negativo  $n$ . ¿Cuál es la longitud del segmento  $A_0A_{11}$ ?

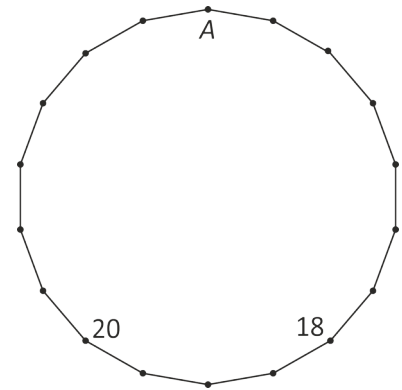
- (A) 171                      (B) 341                      (C) 512                      (D) 587                      (E) 683

24. El club de aviación de Frida diseñó una bandera que muestra sobre una cuadrícula una paloma volando. El área cubierta por la paloma es de  $192\text{ cm}^2$ . El perímetro de la paloma está formado por partes de circunferencia o segmentos de recta. ¿Cuáles son las dimensiones de la bandera?



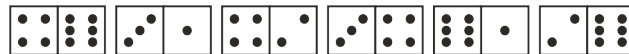
- (A)  $6\text{ cm} \times 4\text{ cm}$     (B)  $12\text{ cm} \times 8\text{ cm}$     (C)  $20\text{ cm} \times 12\text{ cm}$     (D)  $24\text{ cm} \times 16\text{ cm}$     (E)  $30\text{ cm} \times 20\text{ cm}$

25. En la figura se muestra un polígono regular de 18 lados. En cada vértice hay que escribir un número que sea igual a la suma de los números escritos en los dos vértices adyacentes. Se dan dos de los números. ¿Qué número se debe escribir en el vértice A?



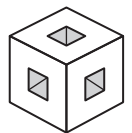
- (A) 2018    (B) -20    (C) 18    (D) 38    (E) -38

26. Las piezas de un dominó se disponen de manera correcta en fila si los puntos de las partes que se tocan son iguales. Pablo dispone seis piezas de dominó como se muestra en la figura. Luego las quiere poner de manera correcta y solo tiene permitido hacer dos tipos de movimientos, o bien intercambia la posición de dos piezas o bien rota una pieza. ¿Cuál es el menor número de movimientos que necesita hacer para ordenar las piezas de manera correcta?



- (A) 1    (B) 2    (C) 3    (D) 4  
(E) es imposible hacerlo

27. De un cubo de  $3 \times 3 \times 3$  se han eliminado siete cubitos (ver figura). Cortamos el cubo con un plano que pasa por el centro del cubo y es perpendicular a una de sus cuatro diagonales mayores. ¿Cómo se ve la sección del corte?



- (A)    (B)    (C)    (D)    (E)

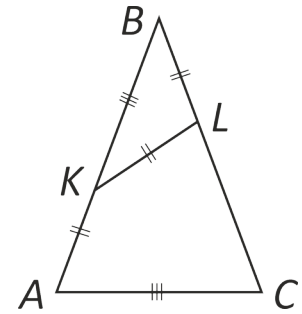
28. María, Patricia y Flora fueron de compras. Patricia solo gastó el 15% de lo que gastó Flora. Sin embargo, María gastó 60% más de lo que gastó Flora. Entre las tres gastaron \$55 USD. ¿Cuánto gastó María?

- (A) 3                      (B) 20                      (C) 25                      (D) 26                      (E) 32


29. Ed hizo un cubo grande uniendo cierto número de cubitos idénticos y luego pintó algunas caras del cubo grande. Su hermana Nicole tiró el cubo al piso y éste se desarmó en los cubitos originales. 45 de estos cubitos no tenían ninguna cara pintada. ¿Cuántas caras del cubo grande había pintado Ed?

- (A) 2                      (B) 3                      (C) 4                      (D) 5                      (E) 6

30. En el triángulo isósceles  $ABC$ , se marcan los puntos  $K$  y  $L$  sobre los lados  $AB$  y  $BC$  respectivamente, tal que  $AK = KL = LB$  y  $KB = AC$ . ¿Cuánto mide el ángulo  $ABC$ ?



- (A)  $30^\circ$                       (B)  $35^\circ$                       (C)  $36^\circ$                       (D)  $40^\circ$                       (E)  $44^\circ$



## Hoja de Respuestas

Nombre: \_\_\_\_\_

Institución: \_\_\_\_\_

Nivel: \_\_\_\_\_

01. A B C D E

02. A B C D E

03. A B C D E

04. A B C D E

05. A B C D E

06. A B C D E

07. A B C D E

08. A B C D E

09. A B C D E

10. A B C D E

11. A B C D E

12. A B C D E

13. A B C D E

14. A B C D E

15. A B C D E

16. A B C D E

17. A B C D E

18. A B C D E

19. A B C D E

20. A B C D E

21. A B C D E

22. A B C D E

23. A B C D E

24. A B C D E

25. A B C D E

26. A B C D E

27. A B C D E

28. A B C D E

29. A B C D E

30. A B C D E